

Soalan Pendidikan Muzik Tahun 5
SK Taman Tasik

Nama :

Kelas :

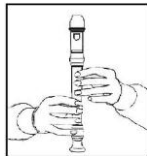
Bahagian A

Jawab Semua Soalan. Bulatkan jawapan yang betul

1. Apakah nama lagu kebangsaan Negara Malaysia?
 - a. Tanah Tumpah Darahku
 - b. Sultan Kurniakan
 - c. Selamat Bertakhta
 - d. Negaraku

2. Berikut merupakan not yang tidak terdapat dalam muzik?
 - a. Semibrif
 - b. Krocet
 - c. Masalam
 - d. Minim

3. Apakah nama alatan muzik yang mengeluarkan bunyi tik-tok?
 - a. Tamborine
 - b. Kayu Tik Tok
 - c. Kastenet
 - d. Rekoder



4. Apakah nama alatan muzik dalam gambarajah di atas?
 - a. Kastenet
 - b. Rekoder
 - c. Drum
 - d. Tik-Tok

5. Bahagian manakah yang digunakan untuk membunyikan rekoder?
 - a. Mulut
 - b. Tangan
 - c. Jari
 - d. Hidung

6. Berapakah nilai bagi not semibrif?
 - a. 1
 - b. 2
 - c. 3
 - d. 4

7. Bagaimanakah cara untuk membunyikan tamborin?
 - a. Ketuk dan goncang
 - b. Tiup
 - c. Baling
 - d. Ketuk dan tangkap

8. Apakah alatan yang dimainkan dengan menggesekkannya?

- a. Gitar
- b. Drum
- c. Piano
- d. Viola

9. Berapakah nilai bagi not krochet?

- a. $\frac{1}{2}$
- b. 1
- c. 3
- d. 4

10. Nyatakan turutan yang betul bagi pernyataan di bawah

- a. Do, Re, Mi, Fa, So, La, Ti, Do
- b. Do, Re, So, La, Do
- c. So, Fa,Lo, Me, Re, do
- d. Do, Ti, La, So, Fa, Me, Re, Do

11. Soalan 11 dan 12 berdasarkan gambarajah di bawah




Namakan alatan muzik di atas?

- a. Kastenet
- b. Rekoder
- c. Drum
- d. Tik-Tok

12. Nyatakan bunyi yang dikeluarkan oleh alatan muzik di atas?

- a. Tik-Tok
- b. Cing-Cing
- c. Tom-Tom
- d. Dam-Dam

13. Soalan 13 berdasarkan gambar di bawah



Apakah nama bahagian rekoder di atas?

- a. Kepala
- b. Leher
- c. Badan
- d. Ekor

14. Apakah alatan yang dimainkan dengan menggunakan mulut?

- a. Viola
- b. Rekoder
- c. Gitar
- d. Piano

15. Apakah not yang mempunyai nilai sebanyak 4?
- Semibrif
 - Krocet
 - Minim
 - Kuaver
16. Apakah nilai bagi not kuaver?
- 3
 - 4
 - $\frac{1}{2}$
 - 2
17. Apabila hendak memulakan nyayian apakah perkara yang perlu dilakukan oleh seseorang penyayi itu?
- Hembus nafas
 - Tarik nafas
 - Buang nafas
 - Tahan nafas
18. Yang manakah antara berikut bukan alat tradisional?
- Gitar
 - Gong
 - Rebana Ubi
 - Seruling
19. Soalan 19 dan 20 berdasarkan gambar di bawah



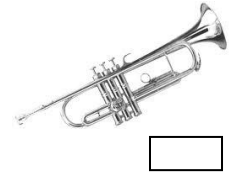



Apakah nama alatan muzik di atas

- Viola
 - Gitar
 - Gambus
 - drum
20. Bagaimanakah caranya hendak memainkan alatan muzik di atas
- Gesek
 - Petik
 - Tiup
 - Sedut

(20 MARKAH)

Bahagian B

1. Tandakan (/) bagi alat muzik moden



(5 MARKAH)

2. Isikan tempat kosong dengan perkataan yang betul

Negaraku _____(a) darahku,
Rakyat hidup _____(b)
_____(c) bahagia
Tuhan _____(d)
Raja kita _____(e)

(5 MARKAH)

Sekolah Taman Tasik _____(a)
_____(b) yang kita banggakan
_____(c)
Itu ikrar kita
_____(d)
maju dan terus Berjaya
berganding tangan bersama
_____(e)

(5 MARKAH)

3. Suaikan nama alatan di bawah

Gitar

Biola

Trompet

Gambus

Kompang



(5 MARKAH)

4. Isikan nilai dan lukiskan tanda not di bawah

Nama Tanda Not	Simbol Tanda Not	Nilai tanda Not
Klef treble		
Kuaver		
Krocet		
Minim		
Semibrif		

(10 MARKAH)

Disediakan oleh
()
Guru Muzik Tahun 5

Disemak oleh
()
Pn. Nik Aznorida Bt Abdullah
Ketua Panatia Pendidikan Muzik
SK Taman Tasik

Disahkan oleh
()
Pn. Hjh Zuraida Bt Hj Ariffin
Penolong Kanan Kurikulum
SK Taman Tasik